

Rozwiąż matematyczną krzyżówkę.



14	:		=		16	:		=	8
	.					.			
	9					15			
	=					=			
	:		=	3		.	5	=	
	.					.			
	2								
	=					=			
	12	.		=	36		.		
						.			
	:	6	=	8		:	6	=	
	:					=			
	4					:			
	=					2			
	:	12	=			=			
					0	.	2	=	






**Ciekawostka**  
 Każda liczba pomnożona przez 0 równa się 0.  
 $7 \cdot 0 = 0$   
 $125 \cdot 0 = 0$   
 $547891 \cdot 0 = 0$

Wykonaj mnożenie i dowiedz się, jakie liczby ukrywają się za owocami.

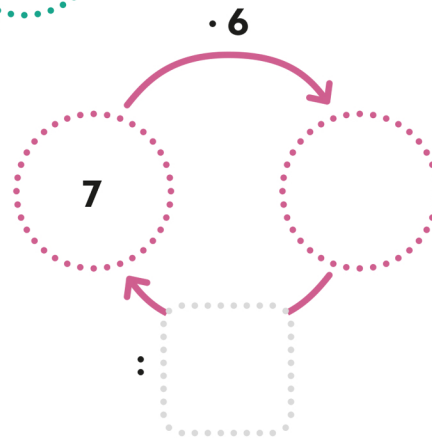
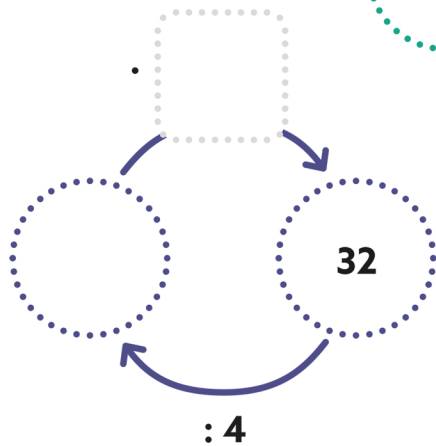
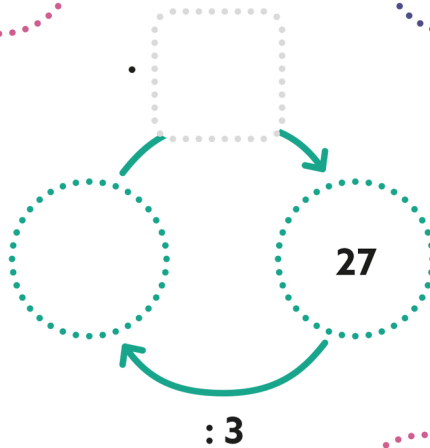
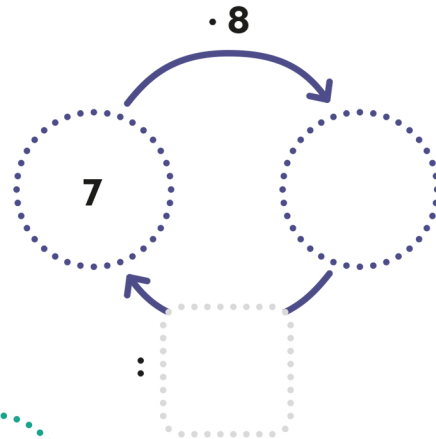
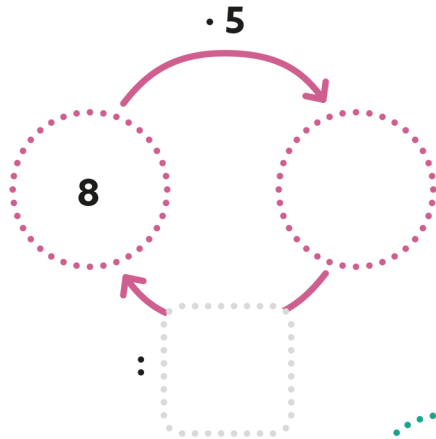
			18
			27
			20
36	30	9	

 = .....     = .....












 = .....     = .....

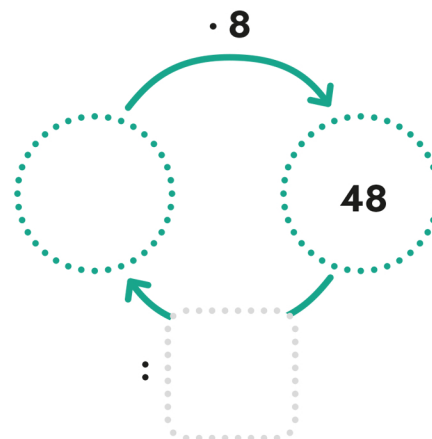
 = .....

Uzupełnij grafy.



**2** ZAGADKA MATEMATYCZNA

 +  +  = 60  
 +  +  = 40  
 -  -  = 2  
 :  =





Wykonaj obliczenia, a następnie wpisz litery nad odpowiednimi wynikami dzielenia.

$40 : 5 = \square \rightarrow Z$

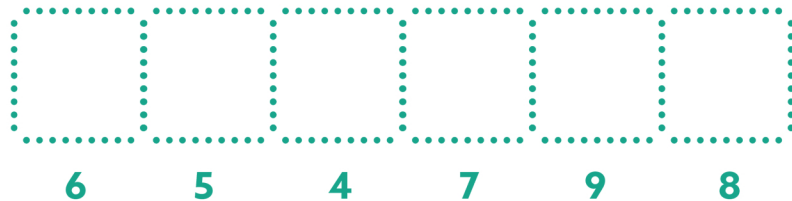
$28 : 4 = \square \rightarrow R$

$35 : 7 = \square \rightarrow L$

$32 : 8 = \square \rightarrow O$

$54 : 9 = \square \rightarrow I$

$81 : 9 = \square \rightarrow A$



### ZAGADKA MATEMATYCZNA

$3 \text{ owls} + 3 \text{ owls} + 3 \text{ owls} = 12$

$2 \text{ owls} + 2 \text{ owls} + 1 \text{ fox} = 10$

$1 \text{ fox} \cdot 1 \text{ raccoon} = 18$

$1 \text{ raccoon} \cdot 1 \text{ owl} = \square$